



ESTADO DE SANTA CATARINA
TRIBUNAL DE JUSTIÇA
GABINETE DA 1ª VICE-PRESIDÊNCIA – SALA DAS COMISSÕES

CADERNO DE PROVAS

CONCURSO: AGENTE OPERACIONAL DE SERVIÇOS DIVERSOS

LEIA ATENTAMENTE AS INSTRUÇÕES ABAIXO

1. O candidato está recebendo, juntamente com este **caderno de provas**, **o cartão-resposta, único e insubstituível. Confira o seu nome.**
2. O cartão-resposta apresenta um campo em que o candidato **deve assinar.**
3. Este caderno de provas **contém 80** (oitenta) **questões**, todas com 4 (quatro) alternativas. Para cada questão existe apenas **UMA** resposta **certa**. O caderno de provas só será trocado se apresentar problema de impressão.
4. O caderno de provas **será devolvido** ao fiscal, juntamente com o **cartão-resposta.**
5. A tarefa do candidato consiste em analisar o conteúdo de cada questão e assinalar a resposta que julgar certa. A **interpretação** das questões, bem como das instruções, faz parte da prova.
6. Preencha o cartão-resposta na mesma seqüência das questões do caderno de provas (de n.º 1 à de n.º 80). A resposta deve ser assinalada conforme instruções contidas no cartão-resposta. A **rasura** implicará a **anulação da resposta.**
7. Na página de número 23, o candidato encontrará uma grade de respostas para anotar o seu gabarito. **Recorte-a e leve-a consigo.**
8. A duração da prova é de 4 (quatro) horas. A **saída do candidato** só será permitida após transcorridas 1 (uma) hora do início da mesma. Os **três últimos** candidatos a terminar a prova **deverão retirar-se da sala simultaneamente.**
9. O gabarito e as provas serão divulgado no dia 2 de outubro, após as 16 (dezesseis) horas, no site do Tribunal de Justiça **www.tj.sc.gov.br** e na **Sala das Comissões**, 11º andar. O resultado **não** será fornecido por telefone.

FLORIANÓPOLIS, 30 de Setembro de 2007.

A COMISSÃO

LÍNGUA PORTUGUESA

O MUNDO EM SUA TELA

Carlos Rydlewski

Uma réplica virtual em três dimensões da Terra está sendo construída na internet em ritmo acelerado. Lançado em 2005, o Google Earth, programa de computador que permite sobrevoar uma detalhada fotografia da superfície terrestre feita por satélites, foi o primeiro a se tornar popular. Sua versão básica, gratuita, foi baixada mais de 250 milhões de vezes. Nos últimos dois anos, várias empresas submeteram essas imagens a um poderoso zoom. Agora, pode-se passear virtualmente pelas ruas de várias cidades com a perspectiva visual de quem caminha pela calçada. Esses ambientes em 3D também estão se transformando em ferramentas de busca. De forma experimental, já é possível entrar em lojas, hotéis e até folhear virtualmente livros raros em bibliotecas.

Na semana passada, a Microsoft, a principal concorrente do Google na geoweb — como é chamado o mapeamento global —, lançou o Live Search Maps (www.livemaps.com.br), com o traçado de ruas de 1 004 cidades brasileiras. Em 170 delas, é possível definir rotas, optando pelo trajeto mais rápido ou mais curto entre dois pontos. Em São Paulo e no Rio de Janeiro, além do itinerário, são fornecidas informações sobre as condições de trânsito, com dados atualizados pelo menos a cada trinta minutos. A Microsoft também lançou um serviço de busca de produtos, com 5 milhões de itens. O serviço permite comparar preços e especificações técnicas de produtos de mais de 2 500 lojas (...)

Veja, São Paulo, edição 2 026 – ano 40 – nº 37 – 19 de setembro de 2007, p.123.

1ª Questão: Leia com atenção o texto “O Mundo em sua Tela” e assinale a alternativa que corresponde ao pensamento nele expresso:

- a) O trabalho de cooperação mútua entre o Google e a Microsoft tem proporcionado benéficas orientações aos pesquisadores.
- b) A versão básica da Microsoft, que permite acesso a produtos de mais de 2 500 lojas, já foi baixada 250 milhões de vezes.
- c) Através do programa da Microsoft, o Live Search Maps, já se tornou fácil definir rotas pelas ruas de 1 004 cidades brasileiras.
- d) O internauta já pode passear virtualmente pelas cidades de São Paulo e Rio de Janeiro, definindo rotas e optando pelo trajeto mais rápido.

2ª Questão: Considerando o texto acima, assinale a alternativa que corresponde ao pensamento nele expresso:

- a) A réplica em 3D da Terra, Google Earth, infelizmente, ainda é de difícil acesso por encontrar-se em construção.
- b) O mapeamento de cidades, através de programas em 3D, possibilita um passeio virtual semelhante ao de quem anda pela calçada.
- c) As versões desses programas do Google e da Microsoft ainda não beneficiam o grande público porque o acesso aos mesmos é muito caro.
- d) Programas em 3D estão envidando esforços para, futuramente, permitir ao internauta entrar em lojas e comparar preços.

3ª Questão: Nos períodos abaixo ocorre a colocação dos pronomes em forma de próclise, ênclise ou mesóclise. Assinale a alternativa que se refere somente a proposições **corretas**, de acordo com a norma culta da língua portuguesa:

- I. Homenagearam-no, entregando-lhe presentes.
- II. Acuso o recebimento da sua carta, que deixou-me preocupada.
- III. Me comunicaram ontem que meu emprego está em perigo.
- IV. Louvar-te-ei sempre que o mereceres.
- V. Em se tratando de crime passional, atente-se para os depoimentos das testemunhas.

- a) I, IV, V
- b) I, III, IV
- c) II, III, IV
- d) I, II, V

4ª Questão: Assinale a alternativa em que todas as proposições obedecem à norma culta da Língua Portuguesa, no que se refere à regência:

- I. Informo-a que seu financiamento foi liberado.
- II. Há meses que não pagam o salário aos funcionários.
- III. O Secretário da Educação visa à reestruturação do ensino público do município.
- IV. Os amigos sempre iam no cinema durante as férias.
- V. As faltas contínuas do aluno às aulas implicaram a sua reprovação.

- a) I, II, IV
- b) II, III, IV
- c) II, III, V
- d) III, IV, V

5ª Questão: Preencha as lacunas das frases abaixo, utilizando que, quê, porque, por que, porquê, por quê e assinale a alternativa que indica a seqüência **correta**, de cima para baixo:

1. Sua atitude manifesta um _____ inexplicável.
2. Gostaria de saber _____ não veio.
3. Dê-me ao menos um _____ para suas atitudes.
4. O que você diz parece mentira, mas eu sei _____ não o é.
5. Você faltou ao nosso último encontro. _____?

- a) por que / porque / por quê / que / Por que
- b) que / por quê / porque / quê / Porque
- c) quê / por que / porquê / que / Por quê
- d) que / porque / quê / por quê / Por que

6ª Questão: Analise as proposições abaixo e, a seguir, assinale a alternativa **correta**:

- I. No passado, havia descontos nas compras à vista.
- II. Conserta-se computadores.
- III. Eu sou uma cidadã latina-americana.
- IV. Deve fazer duas horas que começou a prova.
- V. Em certas filas de banco, é necessário paciência.

- a) II, III, V
- b) I, III, IV
- c) II, IV, V
- d) I, IV, V

7ª Questão: Assinale a alternativa em que ocorre concordância ideológica:

- a) Os abaixo-assinados, inscritos para o concurso Vestibular, requeremos a isenção da taxa.
- b) Os cidadãos brasileiros protestam contra as últimas decisões do Senado.
- c) Vendem-se e alugam-se imóveis.
- d) Constam já no vocabulário contemporâneo palavras como *deletar*, *internetear* ou *formatar*.

8ª Questão: Analise as proposições abaixo e assinale a alternativa em que as palavras sublinhadas estão corretamente empregadas quanto ao seu significado:

- I. É bom sermos fiéis ao cumprimento do dever.
- II. A cessão do prédio para a nova sede da Academia agradou a todos os acadêmicos.
- III. As despesas mensais são vultuosas.
- IV. O mandado do deputado não foi cassado.
- V. O último censo do IBGE ficou prejudicado porque muitos moradores não foram encontrados em casa.

- a) I, III, IV
- b) II, IV
- c) III, IV, V
- d) I, II, V

9ª Questão: Assinale a alternativa que aponta o conjunto de palavras derivadas por sufixação:

- a) anoitecer, pneus, lealdade, pesquisa
- b) desatável, adesivos, equipamentos, letreiro
- c) endovenoso, descamisado, microondas, resistente
- d) abalo, amortecer, descabelar, mol

10ª Questão: Analise o período a seguir e assinale a alternativa **correta**: Em *Queria que me ajudasses*, a oração sublinhada deve ser substituída por:

- a) a sua ajuda
- b) a tua ajuda
- c) a vossa ajuda
- d) a ajuda de você

MATEMÁTICA

11ª Questão: O valor da operação $(3 - 4) \times (10 - 5 + 2)$ é:

- a) 7
- b) - 40
- c) - 7
- d) - 15

12ª Questão: Se um motorista saísse de Florianópolis às 6 h da manhã, com destino à Rio Negrinho, e mantivesse uma velocidade média de 80 km/h. Supondo que não tivesse problemas no percurso, e que a melhor opção fosse trafegar em três rodovias, sendo que deveria percorrer 12 km na SC 401, 144 km na BR 101 e 84 km na BR 280. O horário de chegada a Rio Negrinho seria:

- a) 8:20 h
- b) 8:40 h
- c) 9:00 h
- d) 9:10 h

13ª Questão: Pedro comprou uma bicicleta numa promoção por R\$ 400,00. Tentando levar vantagem, resolveu vendê-la para Carlos acrescentando a esse valor 50% de lucro. Como Carlos já conhecia a fama de Pedro, pediu um desconto de 40% sobre o preço proposto por Pedro. Se achando muito esperto Pedro aceitou a proposta.

O que podemos concluir dessa transação que:

- a) Pedro teve um lucro de R\$ 60,00
- b) Pedro teve um prejuízo de R\$ 60,00
- c) Pedro teve um lucro de R\$ 40,00
- d) Pedro teve um prejuízo de R\$ 40,00

14ª Questão: O valor da operação $-1 + \frac{5}{3} - \frac{1}{2}$ é:

- a) $\frac{1}{6}$
- b) 1
- c) $\frac{3}{6}$
- d) $\frac{3}{5}$

15ª Questão: Numa viagem o pneu do carro fura com $\frac{1}{3}$ do trajeto completado. Se tivesse rodado mais 75 km, teria chegado à metade do caminho. A quilometragem total da viagem é de:

- a) 150 km
- b) 450 km
- c) 200 km
- d) 400 km

16ª Questão: Claudia comprou uma TV tela plana de 29 polegadas, em 10 prestações de R\$ 89,00 ao mês. Mas atrasou o pagamento da segunda prestação. Foi até a loja e descobriu que terá que pagar o valor da prestação mais uma multa de 8% sobre o valor da prestação. O valor a ser pago pela Claudia neste mês é de:

- a) R\$ 96,12
- b) R\$ 90,71
- c) R\$ 97,12
- d) R\$ 96,71

17ª Questão: Jandir decidiu construir uma garagem de 4 metros por 6 metros em sua casa. Já que está com “a mão na massa”, resolveu construir também um espaço de 3 metros por 2 metros, para uma churrasqueira. Para revestir essas duas áreas vai precisar de:

- a) 24 m^2 de piso
- b) 6 m^2 de piso
- c) 12 m^2 de piso
- d) 30 m^2 de piso

18ª Questão: O tanque do carro de João tem capacidade para 40 litros de gasolina e está com apenas $\frac{1}{5}$ de sua capacidade ocupada. Sabendo que o litro da gasolina custa R\$ 2,49. Para encher o tanque João vai gastar:

- a) R\$ 78,69
- b) R\$ 79,68
- c) R\$ 76,78
- d) R\$ 67,98

19ª Questão: Segundo a Petrobrás, o Gás Natural Veicular (GNV), conhecido como combustível do futuro, é uma mistura de hidrocarbonetos leves que, à temperatura ambiente e pressão atmosférica, permanece no estado gasoso. A queima do GNV é reconhecidamente uma das mais limpas, praticamente sem emissão de monóxido de carbono. Dessa forma, o Gás Natural Veicular representa, sem dúvida, a melhor opção de combustível para utilização em centros urbanos, onde os controles de poluição estão ficando cada vez mais rigorosos. Por não possuir enxofre em sua composição, a queima do Gás Natural não lança compostos que produzam chuva ácida quando em contato com a umidade atmosférica, contribuindo, assim, para a melhoria da qualidade de vida da população.

Sabendo que o Brasil produz cerca de 25 milhões de metros cúbicos de gás natural por dia, num mês com 30 dias, essa produção é de:

- a) 500.000.000 m²
- b) 700.000.000 m³
- c) 500.000.000 m²
- d) 750.000.000 m³

20ª Questão: Luiz foi contratado como motorista recebendo um salário de R\$ 800,00 por mês. Trabalhou por 6 meses. O valor que Luiz receberá de 13º salário correspondente ao tempo trabalhado é de:

- a) R\$ 400,00
- b) R\$ 600,00
- c) R\$ 500,00
- d) R\$ 700,00

CONHECIMENTOS BÁSICOS DE INFORMÁTICA

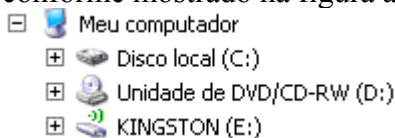
OBSERVAÇÕES:

- 1) *A menos que seja explicitamente informado na questão, o termo “**clicar**” significa a operação de pressionar o botão esquerdo do mouse;*
- 2) *Para todos os programas e acessórios mencionados nas questões, considere a configuração padrão em português do Brasil.*

21ª Questão: Sobre os conceitos relacionados com o uso da Internet, assinale a alternativa **correta**:

- a) “Fazer um *download*” significa desligar o computador.
- b) *Cookies* são sites onde o usuário pode baixar receitas.
- c) “Fazer um *download*” significa copiar um arquivo da internet para o computador do usuário.
- d) *Pop-ups* são animações em forma de balão que “estouram” após serem exibidos por 5 segundos na tela do usuário.

22ª Questão: Considere que um computador possui as unidades de armazenamento C, D e E conforme mostrado na figura a seguir:



O que acontece quando um usuário desse computador digita, na barra de endereços do Internet Explorer 7.0 o texto **E:** e em seguida pressiona a tecla **ENTER**?

- a) É iniciado o programa Windows Explorer mostrando os arquivos e pastas da unidade E.
- b) É exibida a página **www.e.com.br**.
- c) O Internet Explorer exibe uma mensagem de erro informando que **E:** não é um endereço válido.
- d) O Internet Explorer mostra os arquivos e pastas da unidade E na guia (aba) atual.

23ª Questão: Com relação à utilização de correio eletrônico (e-mail), analise as afirmativas a seguir e assinale a alternativa **correta**:

- I. Por padrão, todas as mensagens já lidas são automaticamente eliminadas (excluídas) quando o computador é desligado;
 - II. **www.tj.sc.gov.br** não é um endereço de e-mail válido;
 - III. Não existe possibilidade de receber vírus de computador através de mensagens de e-mail;
 - IV. É possível enviar uma mensagem deixando o campo “Assunto” em branco, pois seu preenchimento não é obrigatório.
- a) Somente as afirmativas I e IV estão corretas.
 - b) Somente as afirmativas II e III estão corretas.
 - c) Somente as afirmativas I e III estão corretas.
 - d) Somente as afirmativas II e IV estão corretas.

Atenção: As questões 24ª a 28ª referem-se ao editor de textos Microsoft Word, do pacote de aplicativos Office XP, versão em português, na sua configuração padrão, o qual será denominado apenas “Word”.

24ª Questão: Assinale a alternativa que apresenta somente formatações de fonte do Word aplicadas no texto a seguir:

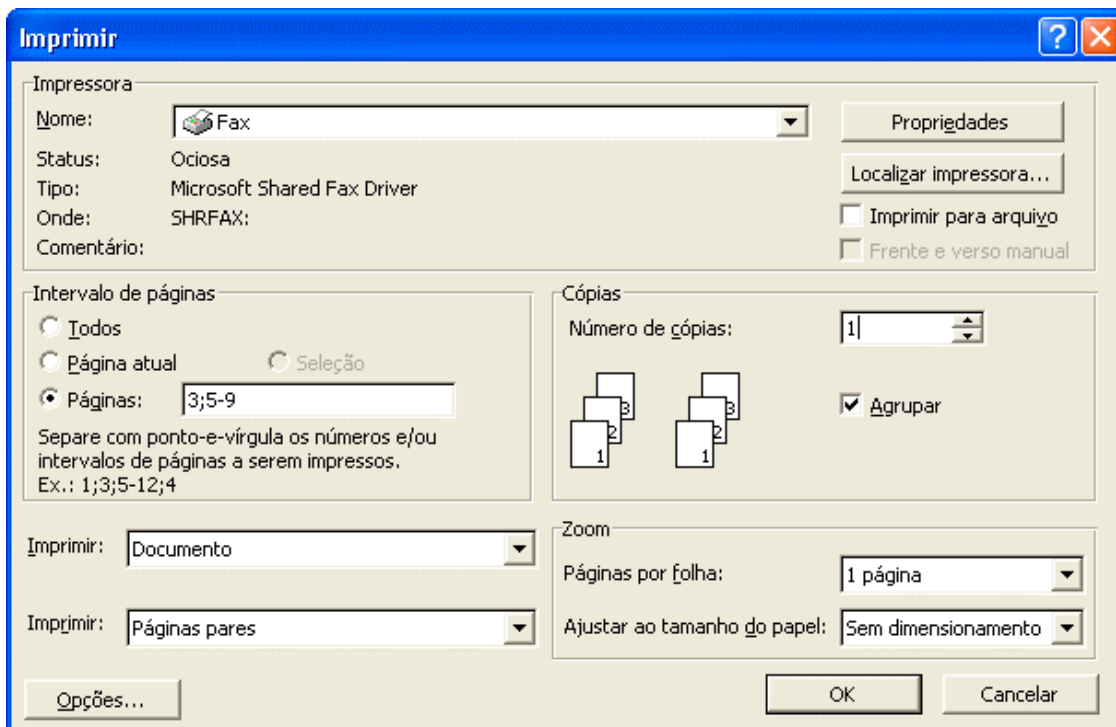
“No que diz respeito aos *blogs*, seu uso começou quase como um diário pessoal, um registro de atividades (daí sua denominação “**weblog**”, depois reduzida a “*blog*”). Pela facilidade de uso, ~~rapidamente~~ se tornou popular.”

- a) Itálico, negrito e tachado.
- b) Itálico, sublinhado e caixa alta.
- c) Negrito, riscado e sombreado.
- d) Sublinhado, itálico e caixa alta.

25ª Questão: Com relação aos recursos de “copiar” e “colar” do Word, assinale a alternativa **correta**.

- a) Não é possível copiar texto de um documento e colá-lo em outro documento.
- b) Uma das formas de copiar um texto selecionado para a área de transferência é pressionar simultaneamente as teclas “Ctrl” e “C”.
- c) Quando o Word é encerrado, todo o conteúdo da área de transferência é excluído.
- d) Depois que foi “colado” em um documento, o texto não pode mais ser apagado.

26ª Questão: Considere um documento do Word com 12 páginas. De acordo com as configurações de impressão mostradas na imagem a seguir, assinale a alternativa que indica quais as páginas que serão enviadas para a impressora ao clicar no botão “OK”.



- a) 3, 5, 6, 7, 8 e 9
- b) 6 e 8
- c) 3, 5 e 9
- d) 3, 6, 7, e 8

27ª Questão: Sobre os modos de exibição de documentos do Word, assinale a alternativa **correta**.

- a) A única forma de desativar o modo “tela inteira” é desligando o computador.
- b) O modo “*layout* de impressão” só pode ser aplicado se houver uma impressora conectada ao computador e ligada.
- c) No modo “tela inteira” apenas é possível visualizar o texto do documento, as barras de ferramentas “padrão” e “formatação” e as barras de rolagem.
- d) Uma das formas de ativar o modo “normal” é através da opção “Normal” do menu “Exibir”.

28ª Questão: Considere a seguinte tabela em um documento do Word e assinale a alternativa correta.

COMARCA	MICROS	IMPRESSORAS
Capital	314	150
Joinville	234	84
Palhoça	58	32
São José	180	80

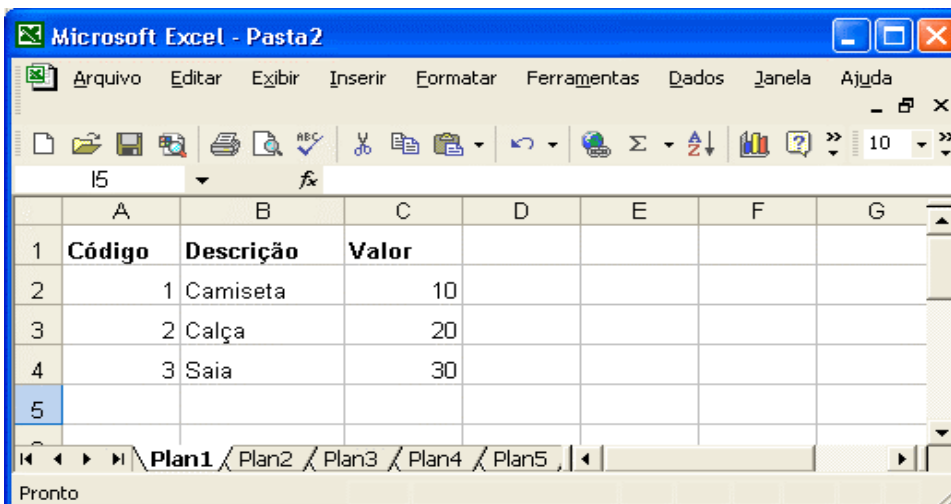
- a) É possível afirmar que a tabela possui 3 linhas e 5 colunas.
- b) Com o cursor posicionado imediatamente após o número 80 (na última célula da tabela), pressionar a tecla “Enter” faz com que a tabela passe a ter 6 linhas.
- c) É possível ordenar as informações da tabela a partir da opção “Classificar” do menu “Tabela”.
- d) Com o cursor posicionado imediatamente antes da palavra “COMARCA” (primeira célula da tabela), pressionar a tecla “Del” faz com que toda a tabela seja excluída.

Atenção: As questões 29ª e 30ª referem-se à planilha eletrônica Microsoft Excel, do pacote de aplicativos Office XP, versão em português, na sua configuração padrão, a qual será denominada apenas “Excel”.

29ª Questão: Em uma planilha do Excel, o usuário clica na célula B2. Em seguida, pressiona a tecla “Ctrl” e, mantendo-a pressionada, clica na célula B5. Após essa seqüência de operações, foram selecionadas as células:

- a) B2 e B5
- b) B2, B3, B4 e B5
- c) B3 e B4
- d) Todas as células da planilha.

30ª Questão: Com relação aos recursos de formatação de células do Excel, analise a imagem a seguir e assinale a alternativa correta.



- a) Na célula C2, a aplicação da formatação “Moeda” com duas casas decimais e uso do símbolo **R\$** apresenta como resultado **R\$ 10,00**.
- b) Na célula A2, a aplicação da formatação “Número” com duas casas decimais apresenta como resultado **0,01**.
- c) Na célula B2, a aplicação da formatação “Número” com duas casas decimais faz com que o Excel exiba uma mensagem de erro.
- d) Na célula A2, a aplicação da formatação “Texto” faz com que o Excel exiba uma mensagem de erro.

CONHECIMENTOS GERAIS

Geografia

31ª Questão: A comunidade internacional vive em permanente troca de parcerias, formando associações regionais com finalidades econômicas, políticas, ideológicas e etc. Essas associações envolvem países de todos os continentes - Ásia, Europa, África e Américas, e algumas abrangem países de mais de um continente.

Algumas dessas associações, ainda, acabam por ser extintas e/ou substituídas. Assim, das associações abaixo, todas surgidas nas Américas, qual delas desapareceu e qual delas a substituiu, na seqüência?

- I. PACTO ANDINO / MERCOSUL
- II. ALALC / ALADI
- III. PACTO ANDINO / NAFTA
- IV. ALADI / PACTO ANDINO

Resposta: Assinale a alternativa **correta**.

- a) I
- b) II
- c) III
- d) IV

32ª Questão: Com uma área de 8.547.403 km², o Brasil se estende, grosso modo, por metade da América do Sul. O Brasil está situado em sua maior parte no hemisfério Sul (entre 5°16' de latitude norte a 33°45' de latitude sul), relativamente ao equador e, em relação ao meridiano de Greenwich, encontra-se totalmente no hemisfério Ocidental (entre 34°47' e 73°59' de longitude oeste). Seus limites extremos estão marcados por acidentes geográficos específicos, os quais marcam os quatro “cantos” de seu território.

Em relação aos limites extremos de seu território, o Brasil:

- I. Tem seu extremo oeste da área continental na Ponta do Seixas.
- II. Tem o cabo Orange, onde se situa a foz do rio Oiapoque, como o extremo leste da sua área continental.
- III. Tem a serra da Contamana definindo o extremo norte do país.
- IV. Tem seu ponto mais ao norte no monte Caburaí, em Roraima.

Resposta: Assinale a alternativa **correta**.

- a) I
- b) II
- c) III
- d) IV

33ª Questão: Os setores tradicionais de atividades básicas da economia nacional são o Primário, o Secundário e o Terciário.

O setor Primário trata essencialmente da agricultura, pecuária e exploração mineral, mas são os setores industrial e de serviços que assumem, cada vez mais, maior importância na economia, e o setor industrial, em especial, tem sido determinante na localização de atividades produtivas e assentamentos de grupos humanos, pois promove, através da oferta de emprego e da renda, oportunidades aos indivíduos que buscam se firmar no mercado de trabalho. Assim, quando uma indústria de porte ou quando um distrito industrial ou centro empresarial se estabelece em uma região, acaba por exercer uma forte atração sobre outros investimentos (aglomeração geográfica) e sobre os indivíduos, e estes acabam por se assentar residencialmente na região de entorno dos novos empreendimentos.

Considerando o texto acima, podemos dizer que, no Brasil:

- I. A região sudeste é a área de maior procura para o propósito de emprego e renda no país, o que acaba por promover taxas de crescimento demográfico além daquelas resultantes do crescimento vegetativo.
- II. O nordeste brasileiro tem sido, por excelência, a área receptora dos grandes projetos agropastoris do país, eliminando a pequena propriedade rural e esvaziando-a de sua gente.
- III. O centro-oeste tem algumas das maiores aglomerações urbanas do país, dada a recente procura por novas áreas para a localização de investimentos empresariais do setor secundário da economia, promovendo assim a multiplicação de vagas de trabalho e o conseqüente aumento dos assentamentos humanos de grande porte.
- IV. A região amazônica, dada a zona franca de Manaus, é considerada o segundo pólo industrial do país.

Resposta: Assinale a alternativa **correta**.

- a) I
- b) II
- c) III
- d) IV

34ª Questão: O comércio de mercadorias entre cidades e regiões depende do transporte físico das mesmas, pois produtos fabricados na área **A** são consumidos na área **B** e vice-versa. Para responder pelo transporte de milhões de toneladas de produtos em nosso país, são utilizadas diferentes modalidades de transporte.

No Brasil, qual é a seqüência correta das modalidades segundo o seu peso no transporte de cargas (da modalidade mais expressiva para a menos expressiva, portanto, em ordem decrescente)?

- I. Ferroviário, hidroviário, rodoviário, outros.
- II. Ferroviário, rodoviário, outros, hidroviário.
- III. Rodoviário, ferroviário, hidroviário, outros.
- IV. Outros, hidroviário, rodoviário, ferroviário.

Resposta: Assinale a alternativa **correta**.

- a) I
- b) II
- c) III
- d) IV

35ª Questão: Em termos demográficos as cidades crescem em função do crescimento vegetativo de sua população e em função da entrada de indivíduos de outras áreas, podendo ser de outras cidades e/ou da área rural. Desse modo, um processo de migração está em curso.

Em relação ao movimento de pessoas entre cidades, e entre cidades e área rural, podemos considerar como correta uma das declarações abaixo:

- I. A migração entre cidades é chamada de “migração intra-urbana”.
- II. Migração urbana / rural envolve o movimento de pessoas que saem da área rural e vão morar na cidade.
- III. O movimento diário de entrada e saída de pessoas entre um município e outro é chamado de “movimento migratório pendular”.
- IV. Pessoas que saem da cidade para viver na área rural estão imigrando da cidade.

Resposta: Assinale a alternativa **correta**.

- a) I
- b) II
- c) III
- d) IV

36ª Questão: Guerra Fria se refere ao conflito havido entre os Estados Unidos e a então União Soviética, envolvendo um intenso conflito político-ideológico com conseqüências marcantes para a maioria dos países do mundo, pois este foi dividido em duas grandes regiões comandadas pelas potências referidas.

A partir desses dois grandes blocos hegemônicos, surgiram inúmeras crises mundo afora. Dentre tais ocorrências, uma envolveu um país latino-americano, pivô de uma profunda crise entre Estados Unidos e União Soviética, quando essas nações eram lideradas respectivamente por John F. Kennedy e Nikita Khrushchev. Qual dos eventos abaixo corresponde ao enunciado do texto?

- I. Crise dos Mísseis.
- II. Revolução Cubana.
- III. Revolução Sandinista, na Nicarágua.
- IV. Movimento Zapatista, no México.

Resposta: Assinale a alternativa **correta**.

- a) I
- b) II
- c) III
- d) IV

37ª Questão: O período colonial brasileiro, do ponto de vista da sua economia, foi marcado por ciclos, e o ciclo tem sido denominado em função do produto dominante no momento. Na verdade, o conceito de ciclo na história econômica brasileira serve para identificar movimentos de crescimento e queda das atividades extrativas, como o ciclo do pau-brasil, ciclo da produção agrícola (borracha, cana-de-açúcar, cacau, café) e ciclo da mineração (ouro).

Há autores que especificam de forma mais precisa cada um dos ciclos, como o ciclo do pau-brasil, o ciclo do açúcar, o ciclo do ouro, o ciclo do café. Dos produtos apontados neste parágrafo e que formaram a base da economia dos referidos ciclos, qual deles já havia sido explorado pelos portugueses nas ilhas da Madeira, Açores e São Tomé e que foi trazido por eles para o Brasil?

- I. Pau-brasil.
- II. Açúcar.
- III. Ouro.
- IV. Café.

Resposta: Assinale a alternativa **correta**.

- a) I
- b) II
- c) III
- d) IV

38ª Questão: A República no Brasil passou por diferentes períodos de grande importância política – o chamado período da **Primeira República** (1889-1930) e o da **Segunda República** (de 1930 a 1937). Este último foi seguido pelo **Estado Novo** (1937-1945), período que, por sua vez, foi seguido pelo denominado **Período Populista** (1945-1964). Veio então o **Regime Militar (1964-1985)**, seguido pela **normalização institucional**.

Em qual desses períodos ocorreu o definitivo afastamento de Café Filho da presidência da República, na ocasião sendo substituído por seu Vice, Carlos Luz, permitindo a entrada, como Presidente, do catarinense Nereu de Oliveira Ramos?

- I. Estado Novo.
- II. Primeira República.
- III. Período Populista.
- IV. Segunda República.

Resposta: Assinale a alternativa **correta**.

- a) I
- b) II
- c) III
- d) IV

39ª Questão: Revolução de 1930 – esse movimento nasceu com o objetivo de derrubar o presidente Washington Luís e impedir a posse de Júlio Prestes, eleito naquele ano.

Washington Luís, enfrentado forte pressão de alguns setores:

- I. Renunciou à presidência e voltou a viver em São Paulo, onde fez sua carreira política.
- II. Foi deposto e reassumiu a presidência após negociar o apoio da Igreja.
- III. Não aceitou a imposição de renúncia e saiu da presidência na condição de prisioneiro, indo mais tarde para o exílio.
- IV. Foi deposto no dia 24 de outubro e reassumiu no dia seguinte após fechar acordo com os militares.

Resposta: Assinale a alternativa **correta**.

- a) I
- b) II
- c) III
- d) IV

40ª Questão: O chamado **regime militar**, que assumiu o comando político do Brasil em 1964, teve 5 (cinco) presidentes, todos saídos da caserna, que governaram o país até a chamada fase da **normalização institucional**, a qual terminou em 1985. Dos presidentes militares, qual deles foi seguido por uma junta militar constituída por três ministros militares (Aurélio de Lira Tavares, Augusto Hamann Rademaker Grünwald e Márcio de Sousa e Melo) e qual deles assumiu após a junta militar, na sequência?

- I. Castelo Branco / Costa e Silva.
- II. Costa e Silva / Garrastazu Médici.
- III. Garrastazu Médici / Ernesto Geisel.
- IV. Ernesto Geisel / João Batista Figueiredo.

Resposta: Assinale a alternativa **correta**.

- a) I
- b) II
- c) III
- d) IV

CONHECIMENTOS ESPECÍFICOS – LEGISLAÇÃO DE TRÂNSITO

41ª Questão: A coordenação do Sistema Nacional de Trânsito compete ao:

- a) Conselho Nacional de Trânsito.
- b) Conselho Federal de Trânsito.
- c) Conselho Brasileiro do Trânsito.
- d) Conselho Superior do Trânsito.

42ª Questão: **NÃO** constitui uma das prioridades dos órgãos e entidades pertencentes ao Sistema Nacional de Trânsito, no que tange às suas ações:

- a) A preservação da saúde.
- b) A manutenção das vias públicas.
- c) A defesa da vida.
- d) A preservação do meio ambiente.

43ª Questão: No caso de veículos que transitem por fluxos que se cruzam ou se aproximam de locais não sinalizados, tem preferência de passagem:

- a) Em caso de rotatória, o que primeiro chegar nela.
- b) Em cruzamentos sem sinalização, o veículo que vier pela esquerda.
- c) Em cruzamentos sem sinalização, o veículo de maior porte.
- d) Em caso de apenas um fluxo ser proveniente de rodovia, aquele que estiver circulando por ela.

44ª Questão: **NÃO** constitui uma das penalidades previstas pelo Código de Trânsito Brasileiro:

- a) Apreensão do veículo.
- b) Expropriação do veículo.
- c) Freqüência obrigatória em curso de reciclagem.
- d) Suspensão do direito de dirigir.

45ª Questão: NÃO constitui um dos objetivos básicos do Sistema Nacional de Trânsito previstas no nosso Código de Trânsito:

- a) Estabelecer diretrizes da política nacional de trânsito com vistas à fluidez para o trânsito.
- b) Estabelecer diretrizes da política nacional de trânsito com vistas à segurança para o trânsito.
- c) Estabelecer diretrizes da política nacional com vistas à economia de combustível no trânsito.
- d) Estabelecer diretrizes da política nacional de trânsito com vistas à educação para o trânsito.

46ª Questão: No que se refere aos cuidados indispensáveis à segurança do trânsito, entre as afirmativas abaixo, é **correto** afirmar:

- a) O condutor deve guardar distância de segurança lateral e frontal entre seu veículo e os demais.
- b) O condutor deve guardar distância de segurança somente em relação ao veículo que lhe segue à frente.
- c) O condutor não necessita guardar distância de segurança em relação ao bordo da pista.
- d) O condutor deve considerar apenas a velocidade e as condições da pista enquanto o veículo se encontra em circulação.

47ª Questão: Assinale a alternativa **correta** quanto à ultrapassagem de veículos em movimento, de acordo com o Código de Trânsito:

- a) Nunca pode ser feita pela direita.
- b) Pode ser feita tanto pela esquerda quanto pela direita, conforme seja mais conveniente ao condutor.
- c) Deve ser feita pela esquerda, obedecida a sinalização.
- d) Pode ser feita pelo acostamento quando um veículo lento estiver ultrapassando outro.

48ª Questão: Nas operações de retorno, não havendo local apropriado para tal manobra, qual a conduta a ser observada pelo motorista:

- a) Aguardar no acostamento, à direita, para cruzar a pista com segurança.
- b) Aguardar na parte central da pista, até o momento oportuno de realizar a manobra.
- c) Aguardar no acostamento, à esquerda, para cruzar a pista oportunamente.
- d) Seguir lentamente sobre a pista até o momento que a manobra possa ser realizada.

49ª Questão: Qual a atitude que o condutor deve tomar quando perceber que outro veículo que o segue tem o propósito de ultrapassá-lo:

- a) Se estiver circulando pela faixa central, deslocar-se para a faixa da esquerda, mantendo a velocidade.
- b) Se a pista possuir apenas uma faixa, deslocar-se para o acostamento com segurança, diminuindo a velocidade.
- c) Se estiver circulando pela faixa da esquerda, manter-se na mesma faixa, diminuindo a velocidade.
- d) Se estiver circulando pela faixa da esquerda, deslocar-se para a faixa da direita, sem acelerar a marcha.

50ª Questão: Assinale a alternativa **correta** quanto ao uso de luzes em veículos automotores:

- a) Durante o dia, o condutor somente pode manter as luzes do veículo acesas estando sob chuva.
- b) O condutor deve manter acesos os faróis do veículo em luz baixa durante o dia nos túneis providos de iluminação pública.
- c) Ao condutor é permitido trocar, de forma intermitente, luz baixa e alta para indicar a presença policial aos veículos que circulam em sentido contrário.
- d) Nas vias não iluminadas, o condutor pode usar luz alta quando estiver seguindo outro veículo.

51ª Questão: Não havendo sinalização, qual a velocidade máxima permitida nas vias de circulação:

- a) Tratando-se de vias urbanas, 60 (sessenta) quilômetros por hora, nas vias coletoras.
- b) Tratando-se de vias urbanas, 30 (trinta) quilômetros por hora, nas vias locais.
- c) Tratando-se de vias urbanas, 80 (oitenta) quilômetros por hora, nas vias arteriais.
- d) Tratando-se de vias urbanas, 100 (cem) quilômetros por hora, nas vias de trânsito rápido.

52ª Questão: Assinale a alternativa **correta** quanto ao uso de cinto de segurança:

- a) É obrigatório para o condutor e todos os passageiros, em todas as vias do território nacional.
- b) Nas cidades, é obrigatório apenas para o condutor e passageiro do banco da frente, facultado o uso para os passageiros do banco traseiro.
- c) É obrigatório apenas para o condutor.
- d) É obrigatório aos passageiros apenas quando o veículo transita nas rodovias ou em vias de trânsito rápido.

53ª Questão: No que tange à sinalização do trânsito, assinale a alternativa **correta** quanto à ordem de sua prevalência:

- a) As indicações do semáforo prevalecem sobre as ordens do agente de trânsito.
- b) As indicações das placas prevalecem sobre as ordens do agente de trânsito.
- c) As ordens do agente de trânsito prevalecem apenas sobre os demais sinais.
- d) As ordens do agente de trânsito prevalecem sobre as normas de circulação e outros sinais.

54ª Questão: À luz do Código de Trânsito Brasileiro, **NÃO** constitui um veículo de passageiros:

- a) A bicicleta
- b) A charrete
- c) A carroça
- d) O bonde

55ª Questão: Dentre os veículos abaixo, assinale a alternativa que contém veículo dispensado de registro no órgão executivo de trânsito:

- a) De uso bélico.
- b) Semi-reboque.
- c) Articulado.
- d) Elétrico.

56ª Questão: Das medidas administrativas abaixo indicadas, qual a que tem aplicação no caso do veículo ser reprovado na inspeção de emissão de gases e ruído:

- a) Retenção do certificado de licenciamento do veículo.
- b) Retenção do certificado de registro do veículo.
- c) Retenção da carteira de habilitação do condutor.
- d) Retenção do veículo.

57ª Questão: Havendo transferência de propriedade do veículo, qual o prazo para o proprietário adotar as providências necessárias à efetivação da expedição do novo certificado de registro do veículo:

- a) 15 (quinze) dias.
- b) 10 (dez) dias.
- c) 45 (quarenta e cinco) dias.
- d) 30 (trinta) dias.

58ª Questão: Entre as categorias de habilitação previstas no Código de Trânsito, assinale a alternativa que contém habilitação para conduzir veículo motorizado utilizado no transporte de passageiros cuja lotação exceda 8 (oito) lugares, excluído o motorista:

- a) C
- b) D
- c) B
- d) A

59ª Questão: Segundo o Código de Trânsito, no caso de reprovação no exame escrito sobre legislação de trânsito, o candidato somente pode repetir o exame depois de decorridos:

- a) 30 (trinta) dias da realização da prova.
- b) 30 (trinta) dias da divulgação do resultado.
- c) 15 (quinze) dias da divulgação do resultado.
- d) 15 (quinze) dias da realização da prova.

60ª Questão: No que tange à validade da Carteira Nacional de Habilitação, é **correto** afirmar:

- a) Vale por 3 (três) anos somente para os maiores de 70 (setenta) anos de idade.
- b) Vale por 10 (dez) anos para os maiores de 21 (vinte e um) anos e menores de 40 (quarenta) anos de idade.
- c) Está condicionada ao prazo de vigência do exame de aptidão física e mental.
- d) Tem prazo indeterminado enquanto os condutores não tenham em seu prontuário infrações de trânsito.

61ª Questão: De acordo com o Código de Trânsito, às infrações graves são computados:

- a) 5 (cinco) pontos.
- b) 7 (sete) pontos.
- c) 4 (quatro) pontos.
- d) 3 (três) pontos.

62ª Questão: Assinale a alternativa **correta** de acordo com as regras do Código de Trânsito:

- a) As motocicletas são responsáveis pela segurança dos automóveis.
- b) As bicicletas são responsáveis pela segurança das motocicletas.
- c) Os pedestres são responsáveis pela segurança dos automóveis.
- d) Os caminhões são responsáveis pela segurança dos automóveis.

63ª Questão: Quantos pontos são necessários para o condutor ter suspenso o direito de dirigir:

- a) 21 (vinte e um)
- b) 20 (vinte)
- c) 19 (dezenove)
- d) 18 (dezoito)

64ª Questão: De acordo com o Código de Trânsito, qual a concentração de álcool no sangue comprova estar o condutor impedido de dirigir veículo automotor:

- a) 7 (sete) decigramas de álcool por litro de sangue.
- b) 8 (oito) decigramas de álcool por litro de sangue.
- c) 6 (seis) decigramas de álcool por litro de sangue.
- d) 5 (cinco) decigramas de álcool por litro de sangue.

65ª Questão: A penalidade de suspensão ou proibição de se obter a permissão ou habilitação para dirigir veículo automotor pode durar:

- a) De 2 (dois) meses a 1 (um) ano.
- b) De 1 (um) mês a 3 (três) anos.
- c) De 1 (um) ano a 5 (cinco) anos.
- d) De 2 (dois) meses a 5 (cinco) anos.

66ª Questão: Nos termos do Código de Trânsito, **NÃO** constitui circunstância que agrava as penalidades nele previstas:

- a) Ter o acidente ocorrido sobre a faixa de pedestres.
- b) O estado de conservação do veículo.
- c) Não ter o condutor permissão para dirigir.
- d) A utilização de veículo com placas falsas.

67ª Questão: À luz do Código de Trânsito, como se denomina o obstáculo físico colocado na pista de rolamento, destinado à ordenação dos fluxos de trânsito em uma interseção:

- a) Placa
- b) Bordo
- c) Ilha
- d) Foco de pedestres

68ª Questão: A pessoa que conduz veículo automotor em via pública sob a influência de álcool, expondo a dano potencial a incolumidade de outrem, de acordo com o Código de Trânsito está sujeito a que penas:

- a) Detenção, multa e suspensão da habilitação para dirigir.
- b) Reclusão, multa e apreensão do veículo.
- c) Apenas multa e detenção.
- d) Multa, reclusão, apreensão do veículo e submissão a curso de reciclagem após cumprir a pena.

69ª Questão: Qual o grau de infração comete o condutor que dirige veículo automotor sem usar lentes corretoras de visão impostas por ocasião da concessão da licença para conduzir:

- a) Grave.
- b) Média.
- c) Leve.
- d) Gravíssima.

70ª Questão: De acordo com o Código de Trânsito, quantos pontos são computados ao condutor que deixar de usar cinto de segurança:

- a) 7 (sete)
- b) 4 (quatro)
- c) 5 (cinco)
- d) 3 (três)

CONHECIMENTOS ESPECÍFICOS – ORGANIZAÇÃO JUDICIÁRIA ESTADUAL

71ª Questão: Qual o recurso cabível contra decisão do Tribunal de Justiça de Santa Catarina que contrariar a Constituição Federal:

- a) Recurso especial.
- b) Recurso extraordinário.
- c) Recurso ordinário.
- d) Recurso de apelação.

72ª Questão: A qual tribunal compete precipuamente a guarda da Constituição Federal:

- a) Superior Tribunal de Justiça.
- b) Tribunal Federal de Recursos.
- c) Supremo Tribunal Federal.
- d) Tribunal Regional Federal.

73ª Questão: Assinale a alternativa que contém pessoa ou instituição legitimada a propor Ação Direta de Inconstitucionalidade em face da Constituição Federal:

- a) Qualquer governador de estado.
- b) Qualquer senador.
- c) Qualquer deputado federal.
- d) Qualquer partido político.

74ª Questão: Nos crimes comuns, o governador do estado é processado e julgado originariamente:

- a) Pelo Supremo Tribunal Federal.
- b) Pelo Superior Tribunal de Justiça.
- c) Pelo Tribunal de Justiça do Estado.
- d) Pelo Conselho Nacional de Justiça.

75ª Questão: De acordo com a Constituição Estadual, **NÃO** constitui órgão do poder judiciário catarinense:

- a) O Tribunal de Justiça.
- b) Os Juizados Especiais e as Turmas de Recursos.
- c) O Tribunal de Alçada.
- d) Os Juízes de Paz.

76ª Questão: **NÃO** constitui uma das garantias constitucionalmente asseguradas aos juízes:

- a) Inamovibilidade.
- b) Vitaliciedade.
- c) Inimputabilidade.
- d) Irredutibilidade de subsídio.

77ª Questão: Qual o órgão supremo do Poder Judiciário do Estado de Santa Catarina?

- a) O Tribunal de Justiça.
- b) A Corregedoria-Geral de Justiça.
- c) O Conselho de Justiça.
- d) A Academia Judicial.

78ª Questão: Dentre os órgãos abaixo indicados, assinale a alternativa que contém um órgão de colaboração com o poder judiciário catarinense:

- a) As casas da cidadania.
- b) Os juízes de direito substitutos.
- c) A polícia judiciária.
- d) O ministério público.

79ª Questão: De acordo com o Estatuto dos Funcionários Públicos do Estado, o funcionário que deixa de atender à convocação para o tribunal do júri fica sujeito à pena de:

- a) Suspensão até 30 (trinta) dias.
- b) Repreensão escrita.
- c) Repreensão verbal.
- d) Suspensão até 10 (dez) dias

80ª Questão: Assinale a alternativa que **NÃO** contém um dos requisitos básicos para inscrição em concurso público, segundo o Estatuto do funcionalismo estadual:

- a) Gozo dos direitos políticos.
- b) Idade mínima de 21 (vinte e um) anos.
- c) Quitação com as obrigações militares.
- d) Nacionalidade brasileira.



..... Recorte-o e leve-o consigo

G A B A R I T O

Língua Portuguesa

1. D	2. B	3. A	4. C	5. C	6. D	7. A	8. D	9. B	10.B
------	------	------	------	------	------	------	------	------	------

Matemática

11.C	12.C	13.D	14.A	15.B	16.A	17.D	18.B	19.D	20.A
------	------	------	------	------	------	------	------	------	------

Conhecimentos Básicos em Informática

21.C	22.A	23.D	24.A	25.B	26.B	27.D	28.C	29.A	30.A
------	------	------	------	------	------	------	------	------	------

Conhecimentos Gerais

31.B	32.D	33.A	34.C	35.C	36.A	37.B	38.C	39.C	40.B
------	------	------	------	------	------	------	------	------	------

Legislação de Trânsito

41.A	42.B	43.D	44.B	45.C	46.A	47.C	48.A	49.D	50.B
51.B	52.A	53.D	54.C	55.A	56.D	57.D	58.B	59.C	60.C
61.A	62.D	63.B	64.C	65.D	66.B	67.C	68.A	69.D	70.C

Organização Judiciária Estadual

71.B	72.C	73.A	74.B	75.C	76.C	77.A	78.C	79.D	80.B
------	------	------	------	------	------	------	------	------	------